



חוברת הכנה

והסברים לקראת

יום מיון ראשוני

שירות בתי הסוהר





מועמד/ת יקר/ה

אנו שמחים שהגשת/ה את מועמדותך לתפקיד בשירות בתי הסוהר, ומאחלים לך בהצלחה.

כחלק מתהליך המיון ובחינת ההתאמה לארגון תעבור/י סדרה של מבחנים וראיונות. מבחנים אלו חשובים לנו על-מנת להבין את מידת התאמתך לעבודה בתפקיד בשב"ס, ולא פחות חשוב - האם התפקיד והשירות מתאימים לך.

המבחנים הממוחשבים שתעבור/י בודקים יכולות שכליות, נתוני אישיות וכישורים שונים, ולכן חשוב שתבצעו אותם כאשר אתם ערניים ובריאים. אנו ממליצים לישון היטב לפני ביצוע המבחנים ולאכול ארוחת בוקר קלה. מומלץ לבצע בדיקה של תקינות המחשב והאמצעים המתלווים אליו (מצלמה, מיקרופון) טרם תחילת המבחן.

על מועמדים שיש להם אבחון פסיכולוגי/נוירולוגי המעיד על לקות למידה יש להעביר את האבחון ללשכת הגיוס טרם קביעת מועד המבחן הממוחשב. כל אבחון נשקל לגופו ופסיכולוג לשכת הגיוס יבדוק ויאשר האם מגיעה למועמד תוספת זמן.

מועמדים שלא ישלחו את האבחון טרם מועד המבחן, לא יזכו בתוספת זמן או בהקלה כלשהי, גם אם יציגו אותו לאחר מכן.

באופן כללי, נבהיר ששלבי תהליך המיון כולו מותנים זה בזה, וכי אין במעבר שלב אחד התחייבות מבחינת שב"ס להמשך תהליך.

בעמודים הבאים נציג לך דוגמאות של שאלות מהמבחנים שאת/ה עומד/ת לעבור.





1. מבחן הוראות

אם הסכום של 4+7 קטן מ-10 בחר בתשובה מס' 2. אם לא, מהו הסכום?

- 15 1
- 8 2
- 6 3
- 10 4
- 11 5
- 9 6

מכיון שהסכום של 4+7 אינו קטן מ-10, יש לבחור בתשובה המציינת את הסכום. הסכום הוא 11 ולפיכך יש לבחור בתשובה מס' 5.

2. מבחן פ6

כמה מהצמדים שלפנייך זהים?

קח0צא3מדסא - קח0צא3מדסא

זפלפ8גה - זפלפ8גה

שז1אאלפ8 - שז1אאלפ8

9ונר6דול - 9ונר6דול

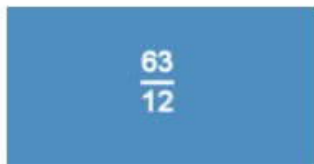
- 1
- 2
- 3
- 4

בדוגמא זו שלושה צמדים זהים. יתר הצמדים שונים זה מזה. מאחר ששלושה צמדים זהים, יש לבחור בתשובה 3.





3. מבחן גישה חשבונית



- 1 15 בערך
- 2 20 בערך
- 3 8 בערך
- 4 5 בערך

בדוגמא זו אתה מתבקש לציין את התשובה המייצגת את ההערכה הקרובה ביותר לתשובה המדוייקת (בערך).
התשובה המדוייקת היא 5.25, אך התשובה הקרובה לה ביותר מבין האפשרויות המוצעות היא 5 (תשובה מספר 4).

מבחן זיכרון

הנבחן משנן זוגות של צורות ומספרים ואח"כ מוצגות הצורות והוא צריך לסמן איזה מספר קשור לכל צורה.




- 1 16
- 2 65
- 3 54
- 4 57
- 5 84

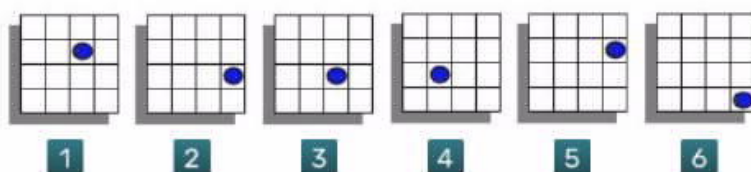
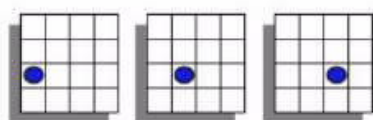


4. הסחת קשב

תמרורים יורדים בשני צידי המסך. הנבחן צריך לבחור, מבין התמרורים בתחתית המסך, אילו תמרורים זהים לאלה שיורדים.



סדרות צורניות



אם נתבונן בסדרת הצורות (שלוש הצורות העליונות) משמאל לימין, נראה כי העיגול נע מהעמודה השמאלית ביותר לעמודה השנייה משמאל, ואח"כ לעמודה הבאה (השנייה מימין). העיגול נמצא, בכל אחת מצורות השאלה, בשורה השנייה מלמטה. הצורה הבאה בסדרה (הצורה הרביעית) צריכה להיות זו, בה העיגול נמצא בעמודה הימנית ביותר ובשורה השנייה מלמטה. זוהי צורה 2 מבין צורות התשובה. יש לבחור, על כן, בתשובה 2.



יום המיון הינו יום מסנן, אולם יחד עם זאת סיום ביצוע המבחנים לא

מבטיח בשום פנים ואופן שעברתם אותם בהצלחה.

תשובה לגבי האם הנך ממשיך/ה בתהליך תישלח אליך בהקדם.



בברכת הצלחה,

צוות לשכת גיוס, שב"ס

